



## Fiche descriptive



2 - 1 =	5	1	3	2	7	8
---------	---	---	---	---	---	---




**Consigne :** Sur chaque ligne, il y a une soustraction et 6 propositions de réponses.  
 Il faut trouver le nombre qui est la bonne réponse. Pour répondre, entourez ce nombre.  
 Durée : 3 minutes.

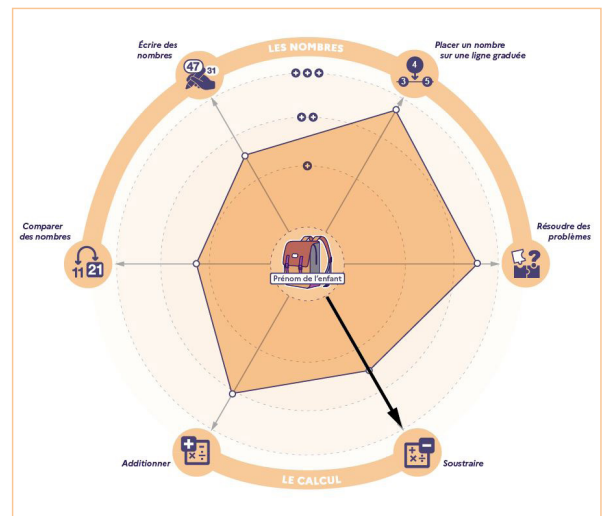
### Pourquoi cet exercice ?

Pour calculer en ligne, l'élève doit avoir une bonne connaissance des nombres. Cet exercice permet d'identifier le niveau de compréhension des élèves dans ce domaine.

Cet exercice comporte 10 calculs.

### Lecture des résultats

-  entre 0 et 4 bonnes réponses
-  entre 5 et 6 bonnes réponses
-  entre 7 et 10 bonnes réponses



### Attentes de l'exercice

- Reconnaître le signe d'opération et choisir la bonne stratégie de calcul.
- Distinguer les chiffres des dizaines et des unités.
- Prendre appui sur ses connaissances des nombres pour calculer.
- Savoir compter à rebours.



**Que puis-je faire pour aider mon enfant à progresser ?**

L'encourager et demeurer confiant en ses capacités seront les meilleures manières de l'accompagner dans ses apprentissages et sa réussite à l'école.

N'hésitez pas à échanger avec son professeur afin de mettre en place ensemble l'accompagnement le plus adapté pour votre enfant.

Découvrez le descriptif complet des évaluations repères sur :

[www.education.gouv.fr](http://www.education.gouv.fr)

