



## Fiche descriptive

2 dizaines + 7 unités =

- 207  
 72  
 27  
 9

**Consigne :** Je vais vous lire la décomposition de nombres en unités/dizaines/centaines. Vous devez trouver le nombre qui correspond. Cochez la réponse correcte.




Durée : 2 minutes 40

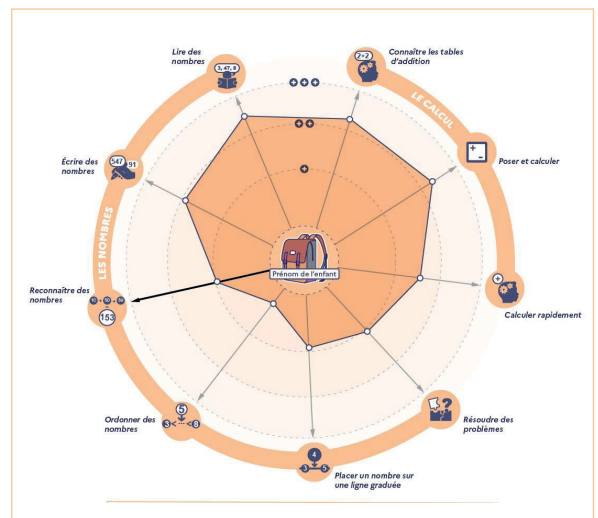
### Pourquoi cet exercice ?

La maîtrise des unités de numération (unités, dizaines, centaines, ...) est fondamentale pour savoir écrire des nombres et pour désigner des quantités.

Cet exercice comporte 8 questions.

### Lecture des résultats

-  entre 0 et 2 bonnes réponses
-  entre 3 et 4 bonnes réponses
-  entre 5 et 8 bonnes réponses



### Attentes de l'exercice

- Maîtriser les unités de numération (unités, dizaines, centaines).
- Comprendre à quoi correspond la position d'un chiffre à l'intérieur d'un nombre (exemple : dans le nombre 325, 2 est le chiffre des dizaines).
- Comprendre l'aspect décimal de la numération (exemple : 325 = 3 centaines + 2 dizaines + 5 unités = 32 dizaines + 5 unités = 325 unités).



**Que puis-je faire pour aider mon enfant à progresser ?**

L'encourager et demeurer confiant en ses capacités seront les meilleures manières de l'accompagner dans ses apprentissages et sa réussite à l'école.

N'hésitez pas à échanger avec son professeur afin de mettre en place ensemble l'accompagnement le plus adapté pour votre enfant.

Découvrez le descriptif complet des évaluations repères sur :

[www.education.gouv.fr](http://www.education.gouv.fr)

